




Arbeitsblatt (1) - Lösung

Energie aus Biomasse

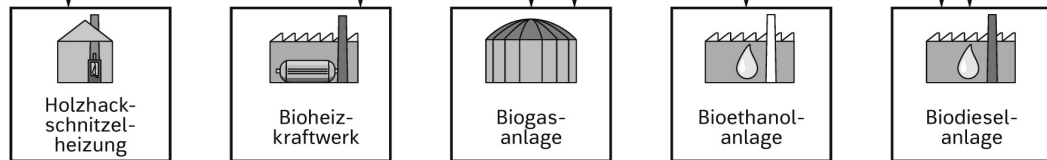


1. a) Ordne jeder Biomasse durch Verbindungslinien eine mögliche Verarbeitungsform zu. Manchmal sind auch zwei Anlagen nötig.
- b) Führe aus den Verarbeitungsanlagen durch Verbindungslinien die Energie einer möglichen Nutzungsform zu.

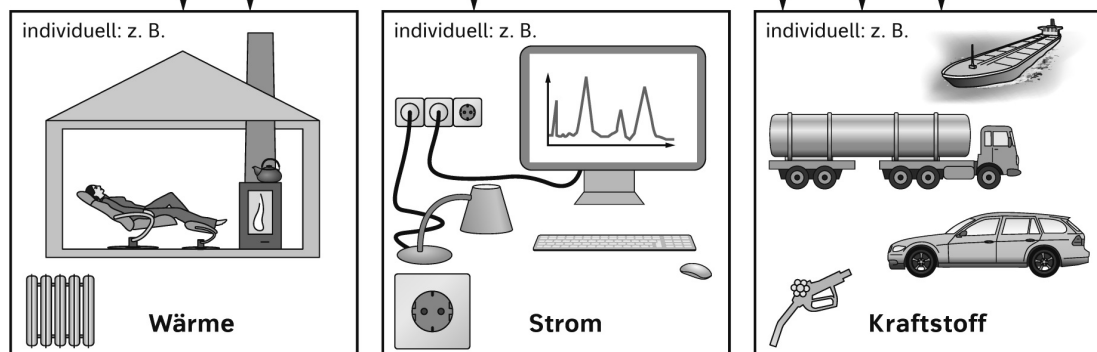
A Biomassen



B Verarbeitung




C Nutzungsformen



Arbeitsblatt (1) - Lösung

Energie aus Biomasse



2. Was kann man mit Wärme, Strom und Kraftstoff machen? Zeichne in die Kästen jeweils ein Beispiel ein.